

**CÂMARA MUNICIPAL DA ILHA DE ITAMARACÁ – PE
CONCURSO PÚBLICO 2023**

CADERNO DE QUESTÕES

IDENTIFICAÇÃO DO CANDIDATO

NOME:

CPF:

NÍVEL: MÉDIO

CARGO: 07 – AUXILIAR ADMINISTRATIVO

Leia com atenção:

1. No Cartão-Resposta, as questões estão representadas por seus respectivos números. Preencha com caneta esferográfica (tinta PRETA);
2. O Cartão-Resposta tem, obrigatoriamente, de ser assinado. Esse Cartão-Resposta não poderá ser substituído, portanto, não o rasure nem o amasse;
3. A DURAÇÃO DA PROVA é de 3 horas, incluído o tempo para preenchimento do Cartão-Resposta;
4. Na prova há 40 questões de múltipla escolha, com cinco opções: A, B, C, D e E;
5. Durante a prova, não será admitida qualquer espécie de consulta ou comunicação entre os candidatos, tampouco será permitido o uso de qualquer tipo de aparelho eletrônico (Calculadora, Celulares e etc.);
6. Só será permitido ao candidato entregar sua prova escrita após 45 (quarenta e cinco) minutos do seu início;
7. Só será permitido ao Candidato sair portando o Caderno de questões, após decorridos 2:40 (duas horas e quarenta minutos), após o efetivo início das provas;
8. O candidato somente poderá ausentar-se temporariamente da sala de provas, durante sua realização, acompanhado de um fiscal;
9. Os 03 (três) últimos candidatos em cada sala de prova, somente poderão entregar a respectiva prova e retirarem-se do local simultaneamente, após assinarem o lacre do envelope, juntamente com os fiscais de sala;
10. Será excluído do Concurso Público o candidato que descumprir os itens acima.

15 QUESTÕES DE PORTUGUÊS

Texto 1

O processo sucessório e o futuro do sucedido

Observando os processos de sucessão em empresas familiares, é fácil identificar que um dos maiores entraves para o sucesso da passagem do bastão é a resistência da geração que está no comando em deixar as suas posições à frente da gestão do negócio. No geral, eles até almejam a aposentadoria ou a diminuição do ritmo de trabalho, mas quando é chegada a hora da sucessão, aparece a resistência e impossibilidades.

Então, entende-se que uma das formas de facilitar o processo sucessório seria ir fazendo o repasse das atividades e responsabilidades aos poucos, até que se complete e consolide a transferência do comando. Mas tão importante quanto administrar a transição da gestão, é planejar o futuro desse sucedido, possibilitando que ele tenha uma missão ou projeto ao qual se dedicar e que o faça se sentir produtivo e realizado após a sucessão.

Esse projeto de futuro pode ser ou não ligado aos negócios familiares, mas precisa ser atraente e mobilizador. Algo que possa até exigir menos tempo e seja diferente daquilo que ele fazia anteriormente, mas não menos desafiador. Só mais alinhado ao seu momento de vida. Neste caminho, só inserir o sucedido no conselho consultivo nem sempre é suficiente. Caberia, por exemplo, colocá-lo à frente da estruturação de um museu da empresa, de um projeto social ou instituto ligado ao negócio. É possível, ainda, organizar sua participação em alguma associação de classe ou, até mesmo, incentivar que ministre palestras para compartilhar suas experiências com outras pessoas. São muitas as opções de atividades que podem ser realmente relevantes e com significativo valor agregado ao negócio, mesmo não estando necessariamente ligada à atividade fim da empresa, e que darão um novo propósito e estímulo para que o sucedido de fato deixe o comando do seu legado nas mãos das novas gerações.

Georgina Santos

Disponível: <https://www.folhape.com.br/colunistas/carreira-e-mercado/o-processo-sucessorio-e-o-futuro-do-sucedido/38665/>
Acesso em 25/08/2023.

01- De acordo com o texto, a autora

- A. expõe a transição de uma gestão atual para o sucessor de forma negociada entre familiares.
- B. ressalta a necessidade de um planejamento de atuações vindouras para o sucedido de forma fértil e valorosa posteriormente à sucessão.
- C. discute os impasses da sucessão de cargos em empresas regidas por famílias tradicionais que atuam em grandes negócios.
- D. descreve as razões que levam o sucedido a recuar no momento da aposentadoria dos negócios sem apresentar possibilidades de acordos includentes.
- E. informa acerca da realidade no mercado empresarial quando se trata de uma trajetória de excelência e do futuro das novas gerações.

02- No fragmento ‘para que o sucedido de fato deixe o comando do seu legado nas mãos das novas gerações. ‘, o termo destacado possui valor semântico de:

- A. compromisso
- B. patrimônio
- C. serviço
- D. linhagem
- E. imagem

03- Ao longo do texto, alguns elementos de coesão retomam o termo ‘sucedido’ em outras frases. Essa retomada não ocorre na alternativa:

- A. ‘que ele tenha uma missão’.
- B. ‘que o faça se sentir produtivo’.
- C. ‘alinhado ao seu momento de vida’.
- D. ‘projeto ao qual se dedicar’.
- E. ‘colocá-lo à frente da estruturação’.

04- No enunciado ‘Mas tão importante quanto administrar a transição da gestão, é planejar o futuro desse sucedido’, pode-se substituir o termo grifado sem alterar o seu sentido, exceto em:

- A. No entanto, tão importante quanto administrar a transição da gestão, é planejar o futuro desse sucedido’.
- B. Todavia, tão importante quanto administrar a transição da gestão, é planejar o futuro desse sucedido’.
- C. Entretanto, tão importante quanto administrar a transição da gestão, é planejar o futuro desse sucedido’.
- D. Contudo, tão importante quanto administrar a transição da gestão, é planejar o futuro desse sucedido.
- E. Portanto, tão importante quanto administrar a transição da gestão, é planejar o futuro desse sucedido’.

05- Em ‘É possível, ainda, organizar sua participação em alguma associação de classe’, tem-se, em destaque, uma oração subordinada:

- A. substantiva objetiva direta
- B. substantiva apositiva
- C. adverbial temporal
- D. adverbial causal
- E. substantiva subjetiva

06- No fragmento ‘incentivar que ministre palestras para compartilhar suas experiências com outras pessoas.’, o termo sublinhado exerce função morfológica de:

- A. conjunção explicativa
- B. conjunção comparativa
- C. conjunção integrante
- D. pronome relativo
- E. conjunção consecutiva

07- Considerando o trecho ‘em deixar as suas posições à frente da gestão do negócio.’, nota-se que o emprego de crase atende à norma culta. Assinale a alternativa que apresenta um desvio à regra de crase.

- A. Apresentou-se a ideologia da empresa e o novo projeto à um sócio estrangeiro.
- B. Falava-se pouco no tocante à sucessão da presidência da empresa.
- C. O respeito à herança do sucedido nos projetos da empresa motivava os funcionários.
- D. O trabalho exitoso fazia grande referência à habilidade de negociar com a nova geração.
- E. Os sucessores sempre se dirigiam à dedicação exemplar do sucedido nos negócios.

08- Assinale a alternativa em que a concordância verbal é indiferente, ou seja, o verbo pode ser empregado no singular ou no plural.

- A. ‘No geral, eles até almejam a aposentadoria ...’
- B. ‘São muitas as opções de atividades...’
- C. ‘... o sucedido de fato deixe...’
- D. ‘...aparece a resistência e impossibilidades.’
- E. ‘Esse projeto de futuro pode ser...’

09- No enunciado ‘Só mais alinhado ao seu momento de vida.’, o termo grifado é invariável. Indique a alternativa cujo emprego de ‘só’, segundo as normas da concordância nominal, pode ser flexionado.

- A. Nas maiores decisões, cabe ao gestor de empresa tomá-las só.

- B. Após anos de trabalho intenso, só o administrador sabe a hora de suceder o cargo.
- C. Só um líder pode anunciar o momento de diminuir suas atribuições.
- D. Era, só naquele período decisivo, um caso de liderança sucessiva a adiar.
- E. Uma dedicação laboriosa estendida aos negócios só prorrogaria a resistência do sucedido.

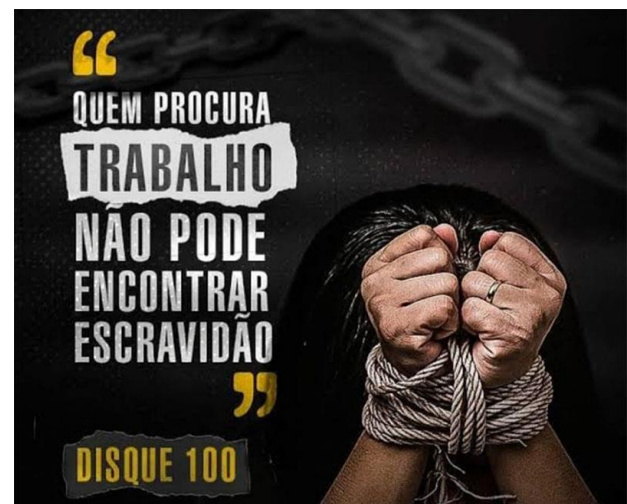
10- Marque a alternativa cujo verbo esteja no mesmo tempo e modo do destacado no trecho: “Algo que possa até exigir menos tempo”.

- A. ‘darão um novo propósito’.
- B. ‘que ele fazia anteriormente’.
- C. ‘é a resistência da geração’.
- D. ‘o processo sucessório seria’.
- E. “seja diferente daquilo”.

11- Os termos ‘transição’ e ‘sucessório’ são ortograficamente escritos com “ç” e com “ss”, respectivamente, da mesma forma que ocorre com:

- A. obseção – intercessão
- B. objeção – execução
- C. inserção – inosso
- D. exceção - escassez
- E. agregação - rechassar

Texto 2



Disponível em: <https://sinait.org.br/site/noticia-view?id=20506>
Acesso em 25/08/2023.

12- O texto publicitário busca atrair o leitor com o intuito de persuadi-lo sobre algo. Assim, esse texto tem como objetivo:

- A. divulgar as ações governamentais contra o trabalho escravo.
- B. incentivar a garantia dos direitos trabalhistas.
- C. conscientizar acerca do trabalho escravo para combatê-lo.
- D. enfatizar o descaso dos patrões em relação aos empregados.
- E. informar as medidas protetivas aos trabalhadores.

13- Em relação às normas de pontuação, assinale a alternativa em que foram obedecidas.

- A. Segundo o Governo Federal, somente este ano até 1º de maio, já foram resgatados 1.201 trabalhadores de condições análogas à escravidão.
- B. Segundo o Governo Federal somente, este ano, até 1º de maio, já foram resgatados 1.201 trabalhadores de condições análogas à escravidão.
- C. Segundo o Governo Federal, somente este ano - até 1º de maio - já foram resgatados 1.201 trabalhadores de condições análogas à escravidão.
- D. Segundo o Governo Federal, somente este ano, até 1º de maio; já foram resgatados, 1.201 trabalhadores de condições análogas à escravidão.
- E. Segundo o Governo Federal, somente, este ano até 1º de maio, já foram resgatados 1.201 trabalhadores, de condições análogas à escravidão.

14- Analise as alternativas a seguir e assinale a única correta.

- A. Em 'Algo que possa até exigir', o vocábulo destacado é um pronome indefinido, cuja funcionalidade pode determinar ou substituir o nome.
- B. Os termos 'alinhado' e 'realmente' são formados pelo processo de derivação das palavras - parassintética e sufixal, respectivamente - através do acréscimo de afixos.
- C. Em 'até que se complete', a palavra destacada é acentuada por ser um monossílabo tônico terminado em "e", como também ocorre com 'né', 'vê', 'dê'.
- D. No trecho 'mesmo não estando necessariamente ligada', o termo sublinhado exerce, no contexto, um valor semântico de proporcionalidade.
- E. No segmento 'Caberia, por exemplo, colocá-lo à frente', a expressão sublinhada estabelece uma relação de retificação quanto ao termo anteriormente mencionado.

15- Assinale a alternativa em que as normas da regência foram respeitadas.

- A. Os casos de trabalho escravo a que aludiu o Ministro são assustadores.
- B. Os relatos dos quais se indignou a equipe do governo eram de trabalhadores explorados.
- C. A situação caótica e desumana que foram obrigados os trabalhadores remete à escravidão.
- D. Os trabalhadores com quem o governo prestou assistência trabalhavam precariamente.
- E. Os patrões os quais os trabalhadores confiaram estão sendo procurados pela polícia.

25 QUESTÕES DE CONHECIMENTOS ESPECÍFICOS

16 - O conjunto dos números naturais se caracteriza por algumas propriedades de seus elementos. Dentre essas características não está:

- A. A diferença entre um número e seu sucessor, nessa ordem, também é natural.
- B. Todo número natural tem outro consecutivo a ele.
- C. O sucessor de um número par sempre será um número ímpar.
- D. O múltiplo de um número natural sempre será natural.
- E. Qualquer número natural que seja par poderá ser dividido por algum outro número par.

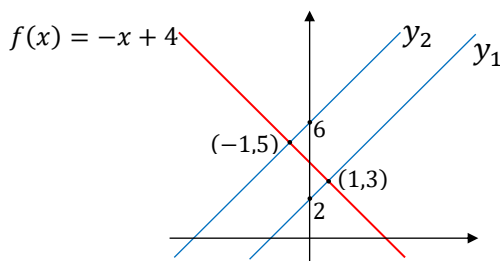
17- Um comerciante tem um limite de R\$ 5.000,00 no cheque especial. O seu saldo na conta é de R\$ 22.000,00 segundo extrato tirado em 04 de setembro. Ao longo da semana houve movimentações em sua conta conforme descrito abaixo:

- 05/09 – saque de R\$ 2.500,00
- 05/09 – pagamento da fatura do cartão “Soquemtem” no valor de R\$ 8.200,00
- 06/09 – depósito de R\$ 1.800,00
- 07/09 – pagamento da fatura do cartão “Gastaquem pode” no valor de R\$ 9.300,00
- 07/09 – depósito de R\$ 1.200,00
- 08/09 – saque de R\$ 3.000,00
- 08/09 – débito de parcela do empréstimo 1 no valor R\$ 800,00
- 08/09 – débito de parcela do empréstimo 2 no valor R\$ 1.800,00

Após essa movimentação, o saldo do comerciante na semana foi de:

- A. + R\$ 900,00
- B. – R\$ 600,00
- C. – R\$ 700,00
- D. + R\$ 200,00
- E. – R\$ 500,00

18- Duas funções y_1 e y_2 , afins e paralelas, interceptam o eixo Oy, respectivamente, nos pontos (0,2) e (0,6). Uma terceira função afim dada por $f(x) = -x + 4$ intercepta essas duas funções nos pontos (1, 3) e (-1, 5) conforme mostra a figura. A respeito dos coeficientes angulares das funções y_1 e y_2 , podemos afirmar que são iguais a:



- A. -2
- B. -1
- C. 1
- D. 2
- E. 4

19- Uma função quadrática de raízes distintas e concavidade voltada para cima tem valor mínimo igual a m . Se esta mesma função for colocada em módulo seu valor mínimo passa a ser p . Podemos dizer que:

- A. $|m - p| = \frac{\Delta}{4a}$
- B. $m \times p < 0$
- C. $m \times p > 0$
- D. $m > p$
- E. $m = p$

20- Um cartão de crédito no valor de R\$ 1.000,00 não foi pago na data do vencimento. Esse cartão cobra uma taxa de juros mensal de 10%. Considerando que o cartão não sofreu acréscimo de multa nem de novas parcelas, mas apenas dos juros por quatro meses, podemos dizer que o montante obtido é:

- A. 1,4641% do valor inicial.
- B. 14,641% do valor inicial.

- C. 146,41% do valor inicial.
- D. 1.464,1% do valor inicial.
- E. 14.641% do valor inicial.

21- Calculando a imagem da função $f(x) = 3 - 2 \cos\left(3x - \frac{\pi}{4}\right)$, obtém-se:

- A. $[-3,3]$
- B. $[-1,1]$
- C. $[-2,2]$
- D. $[1,5]$
- E. $\left[-\frac{1}{4}, \frac{1}{4}\right]$

22- Um arco no ciclo trigonométrico tem seno igual a 0,8. A partir da extremidade do arco que determina o quadrante em que ele se localiza, dar-se três voltas e meia na circunferência. Podemos garantir que:

- A. o cosseno do novo arco é igual à 0,8.
- B. o novo arco está no terceiro ou no quarto quadrante.
- C. o seno do novo arco continua positivo.
- D. o cosseno do novo arco é igual à 0,6.
- E. o cosseno do novo arco é igual à -0,6.

23- Um garoto do 2º ano do Ensino Médio querendo ajudar com o orçamento da casa vendia brigadeiros na escola durante o intervalo nos dias de segunda à sexta. Aos sábados e domingos, vendia na rua de casa. Para recompensá-lo, sua mãe o orientou a guardar R\$ 2,00 para cada dia que vendesse mais da metade dos doces. Como todos os dias ele sempre vendia tudo que levava, pôde guardar a quantia que sua mãe pedira. Sabendo que o garoto já tinha R\$ 124,00 guardados, e que começou a vender os brigadeiros numa quarta-feira, em que dia da semana passou dos R\$ 200,00?

- A. segunda-feira
- B. terça-feira
- C. quarta-feira
- D. quinta-feira
- E. sexta-feira

24- Uma sequência de números começa com a fração $\frac{64}{81}$ e os demais termos são obtidos multiplicando o antecessor pelo número 1,5. O maior número inteiro dessa sequência vai ser o:

- A. quarto termo.
- B. quinto termo.
- C. sexto termo.

- D. sétimo termo.
- E. oitavo termo.

25- A respeito das matrizes é correto afirmar.

- A. Uma matriz é quadrada quando todos os seus termos são quadrados perfeitos.
- B. Uma matriz é inversa de outra se todos os seus termos são inversos dos termos correspondentes da outra.
- C. Uma matriz só pode ser multiplicada por outra de mesma ordem.
- D. A soma entre matrizes inversas dá como resultado a matriz neutra.
- E. Na matriz de ordem $i \times j$, "i" indica o número de linhas e "j" indica o número de colunas.

26- O determinante da matriz $A = \begin{bmatrix} 1 & -1 & 0 \\ 0 & 3 & 2 \\ 2 & 0 & 1 \end{bmatrix}$ é:

- A. 3
- B. 2
- C. 1
- D. 0
- E. -1


27- Permutando as letras da palavra "CONCURSO" é possível um total de:

- A. 3.016 anagramas.
- B. 4.032 anagramas.
- C. 6.048 anagramas.
- D. 8.064 anagramas.
- E. 10.080 anagramas.

28- Ao se escolher um dos anagramas da palavra "CONCURSO" qual a probabilidade de que letras iguais não estejam juntas?

- A. 13/28
- B. 1/2
- C. 5/14
- D. 17/23
- E. 1/4

29- Um troféu é constituído de três partes:



9 cm

- a base: um cubo de aresta 9 cm;
- o tronco: um cubo cuja diagonal da face "d" é a terça parte da diagonal da face "D" da base;
- o topo: uma esfera cujo diâmetro é igual ao lado "L" do cubo da base.

Considerando uma aproximação de $\pi = 3$, determine o volume do troféu.

- A. 1.256 cm^3
- B. $1.000\sqrt{2} \text{ cm}^3$
- C. 1.310 cm^3
- D. $300\sqrt{2} \text{ cm}^3$
- E. $\frac{1000\sqrt{2}}{27} \text{ cm}^3$

30- Sobre as medidas de dispersão na Estatística pode-se dizer:

- A. Determinam a invariabilidade num conjunto de dados.
- B. Servem para avaliar o grau de representação da média.
- C. Servem para avaliar o quanto os dados são distintos.
- D. Uma das médias de dispersão é a média harmônica.
- E. Uma medida de dispersão, a amplitude, é a soma entre o maior e o menor valor.

31- Pedro precisa instalar em seu novo computador o sistema operacional Windows 11, qual o nome do dispositivo onde fica instalado e armazenado o sistema operacional?

- A. Memória RAM.
- B. Memória SIM.
- C. Disco Rígido.
- D. Processador.
- E. Memória

32- Paula adquiriu um notebook, ela não precisa comprar teclado e nem mouse. Nos notebooks existe um dispositivo parecido com o mouse, com as mesmas funcionalidades, qual nome desse dispositivo?

- A. Touchdad.
- B. Touchpad.
- C. Touchbad.
- D. Mousetouch.
- E. Mouse.

33- Qual nome do software padrão do Windows 10 e 11 que serve como antivírus?

- A. Windows Explorer.
- B. Windows Defender.
- C. Windows Firewall.
- D. Windows PowerShell.
- E. Windows Media Player.

34- Juliana está precisando acessar rapidamente uma opção do computador onde ela possa alterar as configurações do computador, ela abriu o programa EXECUTAR e digitou a palavra CONTROL, uma nova tela apareceu com nome de:

- A. Meu Computador.
- B. Ferramentas Administrativas.
- C. Contas de Usuário.
- D. Gerenciador de Tarefas.
- E. Painel de Controle.

35- Joana está executando o Microsoft Office Power Point 2016 e digitou no teclado a tecla F5. Qual ação aconteceu ao executar o atalho F5?

- A. Desfazer.
- B. Iniciar do Começo.
- C. Iniciar do Fim.
- D. Salvar.
- E. Abrir.

36- Para abrir uma nova janela anônima no Microsoft Edge, qual o atalho eu preciso digitar no teclado?

- A. CTRL + N.
- B. CTRL + T.
- C. CTRL + SHIFT + T.
- D. CTRL + SHIFT + N.
- E. ALT + N.

37- Pamela está executando o Microsoft Word 2016 pt-br em computador, ela selecionou uma parte do texto para sublinhar. Qual o atalho ela deve usar no teclado para sublinhar todo o texto selecionado?

- A. CTRL + I.
- B. CTRL + N.
- C. CTRL + P.
- D. CTRL + S.
- E. CTRL + B.

38- As atualizações automáticas são de muita importância para manter em segurança o sistema operacional Windows. Qual nome do programa que é responsável por verificar essas atualizações?

- A. Windows Update.
- B. Windows Defender Firewall.
- C. Windows Atualizações.
- D. Microsoft Defender Antivírus.
- E. Microsoft Office.

39- No Windows 10 qual das pastas abaixo não faz parte das pastas padrões de usuário?

- A. Downloads.
- B. Imagens.
- C. Vídeos
- D. Músicas.
- E. Fotos.

40- Bruno digitou um texto no Microsoft Word 2016 pt-br, agora ele precisa salvar o texto e enviar por e-mail. Qual atalho ele deve usar no teclado para salvar o texto digitado no Microsoft Word 2016 pt-br?

- A. CTRL + S.
- B. CTRL + A.
- C. CTRL + W.
- D. CTRL + V.
- E. CTRL + C.

